

2015年江苏省公务员考试《行测》真题卷（A卷）

注意事项

1. 本测验分为四个部分，共100小题，题型均为单项选择题。总时限为120分钟，答题时请注意合理分配时间。

2. 请按照要求在答题卡上填写好姓名，涂好准考证号。严禁折答题卡。

3. 请将题本上的条形码揭下，贴在答题卡指定位置。没有贴条形码的答题卡将按废卡处理，成绩记为零分。

4. 必须在答题卡上答题；在题本上答题，一律无效。

5. 监考人员宣布考试开始时，方可答题；宣布考试结束时，应立即停止答题。题本、答题卡、草稿纸一律留在桌上，待监考人员确认数量无误，允许离开后，方可离开考场。

如果你违反了以上任何一项要求，都将影响你的成绩。

6. 在本测验中，有些试题可能较难，请不要在一道题上思考时间太久，遇到不会答的题目，可先跳过去，如果有时间再思考，否则，你可能没有时间完成后面的题目。

7. 试题答错不倒扣分。

第一部分 言语理解与表达（共25题，参考时限20分钟）

一、片段阅读。每道题包含一段文字，要求你从四个选项选出最恰当的一项，你的选择必须与题干要求相符合。

1. 财税体制改革，可谓牵一发而动全身。最关注财税体制改革、最明白其重要含义的无疑是各级地方政府，因为财税改革将撬动地方财政“钱袋子”，使之在收入、支出、监督等各方面均发生显著变化。对于目前地方财政面临的诸多深层次问题，如财权与事权不统一、土地财权过度膨胀、预算不够公开透明，等等，本轮财税体制改革都将拿起“手术刀”，直剖病灶予以解决。

对这段文字概括最准确的是（ ）。

- A. 财税体制改革主要针对各级地方政府 B. 财税改革将促使地方政府直面各种财税问题
C. 财税改革是解决地方财政问题的良方妙药 D. 财税改革目的在于收紧地方财政的“钱袋子”

2. 朱光潜生平最景仰两个人，一个是陶潜，一个是和他只有一面之缘的弘一法师。他一生奉行的座右铭是“以出世的精神，做入世的事业”。因做“入世”的事业，他有儒家兼济天下、学以致用的热肠，有“天行健，君子以自强不息”的意志；因有“出世”的精神，他深得道家超然物表、虚静无为的精髓，足具淡泊明志、宁静致远的

神采。不管是风平浪静之时，还是黑云压城之日，他始终锲而不舍，孜孜以求。

下列词语与文段中对朱光潜描述无关的词语是（ ）。

- A. 无为而治 B. 不求名利 C. 意志坚强 D. 胸怀天下

3. 中国人均实际可利用水资源量为 900 立方米，且分布极不均衡。全国每年缺水量为 500 多亿立方米。2010 年，北京人均水资源降至 107 立方米，同期巴黎为 490 立方米，东京为 398 立方米。北方资源性缺水程度加剧，而南方水质型缺水现象突出，地下水污染状况严重。在 200 个城市的地下水监测中，水质较差的有 40.3%，极差的有 14.7%，珠三角等区域内主要城市及近郊地下水中普遍监测出有毒微量有机污染指标。

这段文字意在强调（ ）。

- A. 中国水资源的问题主要在于分布不均匀 B. 中国当前全国范围水资源面临严重问题
C. 中国北方缺水情况与南方缺水情况不同 D. 中国一些经济发达城市地下水污染严重

4. 由于现今大学对自身职能以及职能履行的认识存在一定的偏差，大学内部制度中缺乏教学的价值体现，教师在教学方面的努力、贡献难以得到应有的承认，这样就桎梏了教师的教育热情，直接影响教学质量与大学的社会公信力。另外，大学及教师群体对“学术”内涵的窄化理解使得教学与科研相对立，未将教学上升到学术的层面加以理解。在大学中广泛存在着对专业科研的学术认同，而作为知识传播的教学则难以进入学术之列。

这段文字主要强调的是（ ）。

- A. 大学应提高对自身职能的认识 B. 大学教学质量有待进一步提高
C. 大学必须提高对教学价值的认识 D. 大学内部应对教学与科研一视同仁

5. 睡眠有个神奇的特点，就是我们大多数人总是在每天晚上相同的时间感受到睡魔的召唤。之所以如此，是因为睡眠的启动部分依赖于大脑内的一个“时钟”，这个“时钟”能够追踪记录地球的昼夜更替以及季节性节律，而这个星球上的其他生物，从细菌和植物，到鱼类、昆虫和哺乳动物，都具有这样的能力，“生物钟”在自然界无处不在。

根据文意，下列现象与“生物钟”无关的是（ ）。

- A. 腊梅花香寒冬来到 B. 公鸡每天清晨打鸣
C. 旅美归来要“倒时差” D. 夏季来临昼长夜短

6. 20 世纪 90 年代起，我国实施允许国内民间资本和外资参与国有企业改革改组的政策。截至 2012 年底，银行业中股份制商业银行总股本中民间资本占比达到 45%，城市商业银行总股本中民间资本占比则超过半数，农村中小金融机构股本中民间资本超过 90%。到 2012 年，中国已有 2494 家境内上市公司，股票市值达 23 万亿元，占当年 GDP 的 43%，股票有效账户数 14046 万户。

以下概括与文意不符的一项是（ ）。

- A. 至 2012 年底城商银行民间资本参股占比超过 50% B. 2012 年我国 GDP 已超过 60 万亿元
C. 2012 年我国股票有效账户数已经过亿 D. 2012 年我国境内上市公司已接近 2500 家

7. 民以食为天，人多地少是不少国家面临的共同问题。在全球化时代，国际粮价的波动往往对国内粮食生产影响巨大。据介绍，日本已在海外开发农田 1200 万公顷，相当于其国内耕地面积的 3 倍；韩国在海外购买和租赁农田 243 万公顷，相当于其国内耕地面积的 1.3 倍，日韩农业“走出去”，借助多元化的规模经营，获得了强大的国际竞争力，对保证其粮食供应起到了积极作用。

这段文字讨论的重点是（ ）。

- A. 日韩本世纪的耕地面积规模 B. 日韩“走出去”的海外屯田战略
C. 人多地少、粮价波动是世界性问题 D. 国际粮价与国内粮食生产的联动

8. 夏商及周早期，中国并无商税。这一时期，由于生产力低下，手工业和商业较为落后，且必须在官府作坊内从事生产和贸易，史称“工商食官”。这种体制决定了自己对自己征税并无必要。目前也尚无史料记载这一时期曾开征商税。

夏商及周早期中国没有商税的主要原因在于（ ）。

- A. 当时整个社会的生产力水平太低 B. 这个时期手工业和商业比较落后
C. 当时的统治者还没有征收商税的意识 D. 从事生产和贸易的作坊全都属于官府

9. 新型城镇化最大的障碍是旧的体制和旧的利益格局，突破旧体制的束缚，打破旧利益格局的掣肘，就需要政府淡化经济运营角色，从全能政府转变为有限政府，改变公共权力运行方式。诚然，在重视市场机制的同时，对于城镇化的进程、城市人口、城市布局、城市规模，政府要实行必要的宏观调控，但与此同时，政府也应该从以行政手段为主管理城镇发展，转变为采用经济和法律手段为主管理城镇发展。

下列说法不符合文意的一项是（ ）。

- A. 推动新型城镇化工作的关键是转变政府职能
B. 新型城镇化发展的总体规划应该交由市场进行调控
C. 推动新型城镇化稳步发展必须坚持并强化依法行政
D. 新型城镇化过程中政府对人口等问题仍需实施管控

10. 律师以维护当事人的合法权益，维护法律的正确实施，维护社会公平和正义为己任。正确认识和评价律师在诉讼活动中的地位，为律师发挥积极作用营造良好的环境，有利于更好地查清案件事实，准确适用法律，提高案件审理的质量和效率，能够更好地引导人们服判息诉，自觉履行生效判决，提升司法公信力。相反，忽视甚至否

认律师在诉讼活动中的作用，必然影响诉讼活动的运行质量，削弱司法过程和裁判结果的社会认同，降低司法公信力。

这段文字主要强调的是（ ）。

- A. 律师在维护当事人合法权益方面无疑具有积极作用
- B. 律师参与诉讼活动将更加有利于维护社会公平正义
- C. 忽视律师在司法活动中所起作用将影响司法公信力
- D. 必须正确认识和评价律师在诉讼活动中的积极作用

二、文章阅读。阅读下面文章，回答问题。本题共有五道题，每道题提供四个选项，要求你从中选出最恰当的一项，你的选择必须与题干要求相符合。

我国最早的地理学著作《禹贡》，实际上产生于战国后期，但对历史地理现象的注意和记录在更早的著作中已可找到例证。成书于公元 1 世纪的《汉书·地理志》既是一篇内容丰富的当代地理著作，也堪称中国第一篇历史地理著作，因为它所记述的对象不限于西汉一朝，而是“采获旧闻，考迹《诗》、《书》，推表山川，以缀《禹贡》、《周官》、《春秋》，下及战国、秦、汉”，对见于历史典籍记载的重要山川地名作了考订注释。此后，从酈道元的《水经注》至唐宋以来传世的地理著作，几乎都是由当世上溯到往古，注重历史地理现象的记载和研究的。

在中国漫长的历史时期内，皇朝的更迭、政权的兴衰、疆域的盈缩、政区的分合和地名的更改不断发生；黄河下游的频繁决溢改道又经常引起有关地区地貌及水系的变迁，给社会生活带来相当大的影响。中国古代发达的文化使这些变化大多得到了及时而详尽的记载，但由于在如此巨大的空间和时间中所发生的变化是如此复杂，已不是一般学者所能随意涉足，因而产生了一门专门的学问——舆地之学（沿革地理）。到清代，沿革地理学的成就达到了高峰，是乾嘉学派学术成就的重要组成部分。

毫无疑问，沿革地理是历史地理学的一个分支，因此我们可以说中国的历史地理研究_____于 1900 余年前的《汉书·地理志》，并可以_____更长的历史；但是沿革地理不等于历史地理学，两者不仅有量的不同，而且有质的区别。就研究内容而言，前者主要是政区和疆域、地名、水道的变迁，后者却包括地理学的各个分支。就研究的性质而言，前者一般只是现象的描述和复原，很少涉及变化的原因，后者则不仅要复原各种以往的地理现象，而且要寻求它们变化发展的原因，探索它们的规律。中国沿革地理虽然是一门专门的学问，却一直没有形成一门学科，所以数百年来除了有少数几位专治沿革地理的学者之外，大多只是历史学家、经学家、训诂学家、文学家、金石家的副业，它的成果主要也是作为历史学和其他学科的注释检索之用；历史地理学则有自己独立的学科体系和理论，是现代地理学的一部分，一般来说需要有专门的研究人员，它的研究成果既可用于解释自然发

展规律，也可用于解释人类活动与自然的关系，以及在特定自然条件下的人类社会的发展规律。

显然，历史地理学形成和发展的一个决定因素是现代地理学的建立。在中国，这是在 20 世纪初叶才具备的条件，所以中国沿革地理向历史地理学的发展是 30 年代以后才开始的。

11. 根据文意，下列对《汉书·地理志》描述不正确的一项是（ ）。

- A. 可以看作中国最早的历史地理著作
- B. 首次详细记录了汉代当时的地理情况
- C. 收录了汉代以前战国及秦的地理情况
- D. 战国前的地理情况因资料缺乏尚未记载

12. 沿革地理产生的根本原因在于（ ）。

- A. 漫长历史中地理情况的复杂变化需作专门研究
- B. 中国古代政区的分合和地名的更改不断发生
- C. 古代发达的文化记载了大量历史地理相关资料
- D. 清代乾嘉学派学术研究领域已经有了很大扩展

13. 依次填入文中划横线处最恰当的一项是（ ）。

- A. 肇始 溯源
- B. 起源 回溯
- C. 创立 上溯
- D. 发轫 追溯

14. 下列说法与文中论述“沿革地理不等于历史地理学”的理由不符的一项是（ ）。

- A. 称为学科必须有自己独立的学科体系和理论
- B. 沿革地理的成果主要为其他学科注释检索之用
- C. 历史地理学注重寻求地理现象变化发展的原因
- D. 历代从事沿革地理研究的人并非专职研究人员

15. 下列对文章的内容概括最恰当的是（ ）。

- A. 历史地理学在我国的发展源远流长
- B. 历史地理学形成、发展的主要原因
- C. 历史地理学在我国形成、发展的过程
- D. 历史地理学形成、发展必须具备的条件

三、选词填空。从题后所给的四个选项中选出最符合文意的一项。

16. 辞书是工具书，帮助人们对字词加以正确_____与运用，人们认为它有_____的作用。

依次填入划横线处最恰当的一项是（ ）。

- A. 理解 无师自通
- B. 解释 有教无类
- C. 解析 润物无声
- D. 识别 不可或缺

17. _____的数字技术正在引发一系列革命，作者的革命、读者的革命、书籍的革命、出版的革命，这些数字技术点燃的一堆堆篝火，已让传统出版人感受到了_____。

依次填入划横线处最恰当的一项是（ ）。

- A. 如火如荼 切肤之痛
- B. 轰轰烈烈 危在旦夕
- C. 铺天盖地 痛彻心扉
- D. 席卷全球 灭顶之灾

18. 不论是反腐败还是监督执法，公众的万万千千双眼睛都是最有力的后援。依靠公众监督，既表明了执法部门不护短的决心，也有利于调动公众的热情。只有_____的打击与_____的公众监督密切配合，才能最大程度

_____不规矩的“执法之手”乱伸，最终还法治以_____。

依次填入划横线处最恰当的一项是（ ）。

- A. 大张旗鼓 不偏不倚 防止 清正 B. 声势浩大 不徇私情 阻止 光明
C. 排山倒海 一丝不苟 压制 公正 D. 雷厉风行 无处不在 遏制 清明

19. 夜色渐浓，江风徐徐，在灯火通明的街道上，叫卖声_____，人们抛开白日里水泥森林的高压与冷漠，_____在人流摩肩接踵的繁华小巷，百年老城的夜生活，就在_____的夜晚中拉开了序幕。

依次填入划横线处最恰当的一项是（ ）。

- A. 不绝于耳 徘徊 欢声笑语 B. 此起彼落 穿梭 杂乱无序
C. 此起彼伏 流连 熙熙攘攘 D. 声声入耳 漫步 喧嚣不已

20. 改革总是会_____先易后难的做法，养老保险的统一同样也应该_____这种规律，一步一步逐渐推行。第一步实现城乡居民养老制度统一，而后是企业单位职工与城乡居民养老制度的统一，公务员的聘用制也在逐步实施，各项工作坚持不懈地往前推进，全国养老制度的改革与完善终会_____。

依次填入划横线处最恰当的一项是（ ）。

- A. 采用 遵守 迎刃而解 B. 沿袭 遵循 水到渠成
C. 承袭 服从 瓜熟蒂落 D. 采取 纳入 如期而至

21. 文风源于内心，你表面上可以做到不动声色，但作为情感的_____，文字通常会将你内心的感受直接表现出来，一个人的文风并不是_____的，它会随着人的年龄、心态、思想内涵及_____的变化而改变。

依次填入划横线处最恰当的一项是（ ）。

- A. 宣泄 一成不变 阅历 B. 抒发 一以贯之 经历
C. 爆发 一蹴而就 资历 D. 表露 持之以恒 历练

22. 农业转型过程中，市场发挥决定性作用，切忌_____、揠苗助长，以行政力量_____甚至强推农业规模化。

依次填入划横线处最恰当的一项是（ ）。

- A. 李代桃僵 指导 B. 大包大揽 引导 C. 越俎代庖 主导 D. 鞭打快牛 倡导

23. 客家是汉民族的一支，在一千多年历史_____中，在融合各地域民族文化的同时，不断地传播和_____，使得客家文化_____，源远流长。

依次填入划横线处最恰当的一项是（ ）。

- A. 演变 扩变 波澜壮阔 B. 演化 扩张 不绝如缕

C. 演绎 扩大 流光溢彩

D. 演进 扩散 生生不息

24. 随着人们环保意识的加强, 在选购家具时人们更_____于选择带有环保标识的产品, 本来有这样的意识是件好事, 但我国并没有强制家具认证规定, 国内也尚未_____环保家具认证标准, 现在国内市面上的认证机构_____ , 环保标识_____。

依次填入划横线处最恰当的一项是 ()。

A. 趋向 公布 鱼目混珠 不一而足

B. 倾向 颁布 鱼龙混杂 五花八门

C. 热衷 确定 各自为政 良莠不齐

D. 垂青 制定 形形色色 千奇百怪

25. 我们置身于一个媒体异常发达的时代, 现实的生活又充满着各种各样的焦虑与诱惑, 想沉下心来, 静心坐在书桌之前, 饱餐一本_____已久的好书, 似乎是一种_____ , 有些勉为其难, 即使有读书的“形态” , _____缺乏读书的“心态”。

依次填入划横线处最恰当的一项是 ()。

A. 期盼 幻想 总是

B. 倾心 超脱 毕竟

C. 心仪 奢望 依然

D. 仰慕 妄想 终究

第二部分 数量关系 (共 15 题, 参考时限 15 分钟)

一、数字推理。给出一个数列, 缺少其中一项, 要求你仔细观察数列的排列规律, 从四个选项中, 选择最合适的一项, 使之符合原数列的排列规律。

26. -7, -5, -1, 5, (), 23

A. 10

B. 11

C. 13

D. 20

27. 21, 30, 40, 52, 68, ()

A. 112

B. 113

C. 95

D. 92

28. 2.3, 4.8, 8.24, 16.51, 32.89, ()

A. 64.138

B. 64.136

C. 128.138

D. 128.136

29. $3, \sqrt{11}, 4, 2\sqrt{6}, \sqrt{35}, ()$

A. $\sqrt{51}$

B. 7

C. 6

D. $3\sqrt{2}$

30. $4, 2, \frac{11}{5}, \frac{19}{7}, \frac{10}{3}, ()$

A. $\frac{37}{11}$

B. 4

C. $\frac{21}{13}$

D. 5

二、数学运算。通过运算, 选择最合适的一项。

31. 已知一等差数列 $a_1, 21, a_3, 31, \dots, a_n, \dots$, 若 $a_n=516$, 则该数列前 n 项的平均数是 ()。

- A. 266 B. 258 C. 255 D. 212

32. 设 a, b 均为正整数, 若 $11a+7b=132$ 成立, 则 a 的值为 ()。

- A. 6 B. 4 C. 3 D. 5

33. 甲、乙工程队需要在规定的工期内完成某项工程。若甲队单独做, 则要超工期 9 天完成; 若乙队单独做, 则要超工期 16 天才能完成; 若两队合做, 则恰好按期完成。

那么, 该项工程规定的工期是 ()。

- A. 8 天 B. 6 天 C. 12 天 D. 5 天

34. 一群大学生进行分组活动, 要求每组人数相同, 若每组 22 人, 则多出一人未分进组; 若少分一组, 则恰好每组人数一样多, 已知每组人数最多只能 32 人, 则该群学生总人数是 ()。

- A. 441 B. 529 C. 536 D. 528

35. 有 A、B、C 三种浓度不同的盐溶液。若取等量的 A、B 两种盐溶液混合, 则得浓度为 17% 的盐溶液; 若取等量的 B、C 两种盐溶液混合, 则得浓度为 23% 的盐溶液; 若取等量的 A、B、C 三种盐溶液混合, 得到浓度为 18% 的盐溶液, 则 B 种盐溶液的浓度是 ()。

- A. 21% B. 22% C. 26% D. 37%

36. 假设空气质量可按良好、轻度污染和重度污染三类划分。一环境监测单位在某段时间对 63 个城市的空气质量进行了监测, 结果表明: 空气质量良好城市数是重度污染城市数的 3 倍还多 3 个, 轻度污染城市数是重度污染城市数的 2 倍。

那么空气质量良好的城市个数是 ()。

- A. 33 B. 31 C. 23 D. 27

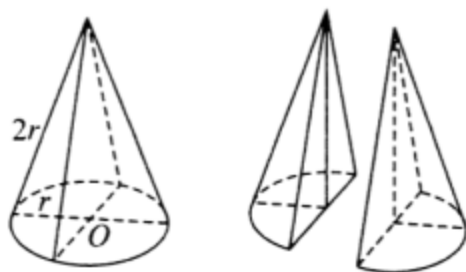
37. 同样价格的某商品在 4 个商场销售时都进行了两次价格调整。甲商场第一次提价的百分率为 a , 第二次提价的百分率为 b ($a>0, b>0$, 且 $a \neq b$); 乙商场两次提价的百分率均为 $\frac{1}{2}(a+b)$; 丙商场第一次提价的百分率为 $\frac{1}{3}(a+b)$, 第二次提价的百分率为 $\frac{2}{3}(a+b)$; 丁商场第一次提价的百分率为 b , 第二次提价的百分率为 a , 两次提价后该商品售价最高的商场是 ()。

- A. 甲商场 B. 乙商场 C. 丙商场 D. 丁商场

38. 黑白两个盒子中共有棋子 193 颗。若从白盒子中取出 15 颗棋子放入黑盒子中, 则黑盒子中的棋子数是白盒子中棋子数的 m (m 为正整数) 倍还多 6 颗。那么, 黑盒子中原来的棋子至少有 ()。

- A. 121 颗 B. 140 颗 C. 161 颗 D. 167 颗

39. 一实心圆锥体的底面半径为 r , 母线长为 $2r$ 。若截圆锥体得到两个同样的锥体(如下图所示), 则所得两个锥体的表面积之和与原圆锥体表面积比值是()。



- A. $\frac{1}{2}$ B. $\frac{\pi+4\sqrt{3}}{6}$ C. $\frac{3\pi+2\sqrt{3}}{3\pi}$ D. $\frac{3\pi+4}{6\pi}$

40. 甲、乙、丙三辆汽车分别从 A 地开往千里之外的 B 地。若乙比甲晚出发 30 分钟, 则乙出发后 2 小时追上甲; 若丙比乙晚出发 20 分钟, 则丙出发后 5 小时追上乙。若甲出发 10 分钟后乙出发, 当乙追上甲时, 丙才出发, 则丙追上甲所需时间是()。

- A. 110 分钟 B. 150 分钟 C. 127 分钟 D. 128 分钟

第三部分 判断推理(共 40 题, 参考时限 35 分钟)

一、类比推理。

(一) 先给出一组有某种关系的词或词组, 请你从四个选项中选出正确的一项, 其关系与题干给出的词或词组的关系最为相似。

41. 白羊: 黑羊()

- A. 高价: 价格 B. 蓝天: 春天 C. 周刊: 月刊 D. 苏州: 徐州

42. 自拍: 拍照()

- A. 铁矿: 金属 B. 茶馆: 场所 C. 微信: 博客 D. 船舱: 飞船

43. 教师: 教师法: 尊重教师()

- A. 企业: 劳动法: 招聘童工 B. 会计: 会计法: 虚报账目
C. 司机: 交通法: 肇事逃逸 D. 夫妻: 婚姻法: 婚姻自主

44. 人民币: 美元: 欧元()

- A. 海鲜: 海鸥: 海滩 B. 贵州: 杭州: 常州
C. 兰花: 牡丹: 菊花 D. 宽恕: 品性: 诚信

(二) 请从四个选项中选出正确的一项, 使得该项的两个词或词组依次代入题干的括号中, 能够最大

限度地满足题干所表达的类比关系。

45. 七天 之于 一星期 相当于 () 之于 ()

- A. 一米 十分米 B. 十元 一百元
C. 直线 几何学 D. 一吨 十公斤

46. 扎小羊灯 之于 () 相当于 剪福字窗花 之于 ()

- A. 灯笼 桃花 B. 喜乐 过年
C. 小羊 窗户 D. 细绳 剪刀

47. 海盐 之于 () 相当于 供暖器 之于 ()

- A. 咸味 供暖 B. 盐场 取暖
C. 味觉 电流 D. 调味 电器

(三) 请从四个选项中选出正确的一项,其特征或规律与题干给出的一串符号的特征或规律最为相似。

48. 1223△※:xxHG ()

- A. 6779☆& ssHg B. 3559& @ ddMW C. 8829@ ☆kkJY D. 3112◎& JjNH

49. Д И Щ Ю Щ Ю ё Д ()

- A. Д Д И Щ Ю Щ Ю ё B. Щ ё Д Д И Ю Ю Щ
C. Ю ё Д Щ Д Щ И Ю D. Ё Щ Д Щ Ю Д Ю ё


50. ≠ ≠ ≠ † † ≠ ≠ ()

- A. ≠ ≠ ≠ ≠ ≠ † † B. † † ≠ † ≠ ≠ ≠ ≠
C. ≠ ≠ ≠ † † ≠ ≠ ≠ D. ≠ ≠ ≠ ≠ ≠ ≠ ≠ †

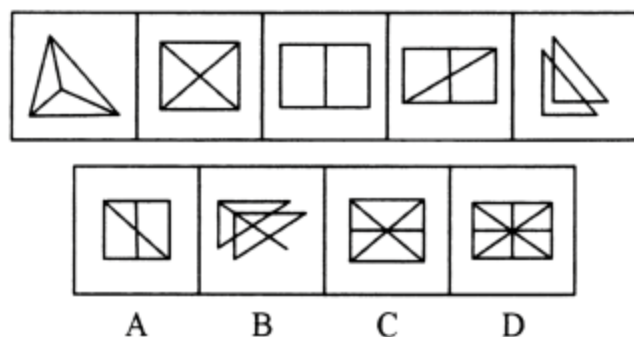
二、图形推理。本部分共 10 题,包括三种类型的题目。

(一) 每道题在左边的题干中给出一套图形,其中包括五个图,这五个图呈现一定的规律性。在右边给出一套图形,其中有四个图,从中选出唯一的一项作为保持左边五个图规律性的第六个图。

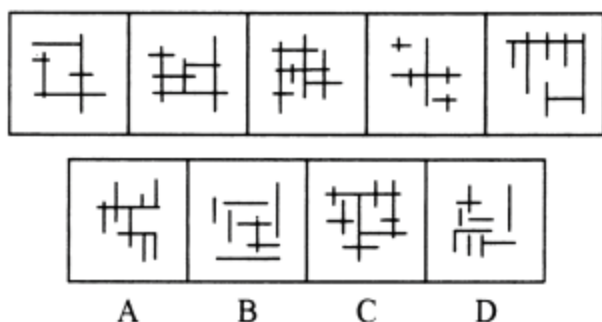
51. 在下边给出一套图形,其中有四个图,从中选出唯一的一项作为保持上边五个图规律性的第六个图。()



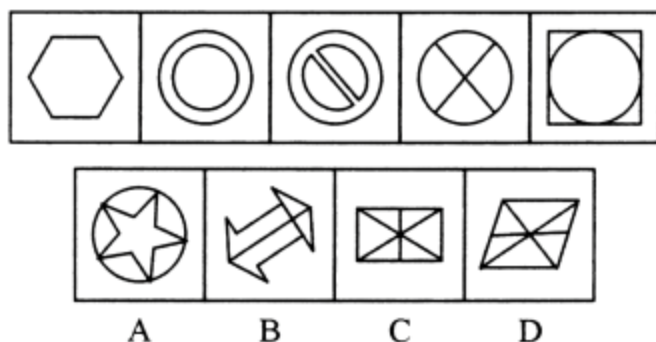
52. 在下边给出一套图形，其中有四个图，从中选出唯一的一项作为保持上边五个图规律性的第六个图。（ ）



53. 在下边给出一套图形，其中有四个图，从中选出唯一的一项作为保持上边五个图规律性的第六个图。（ ）

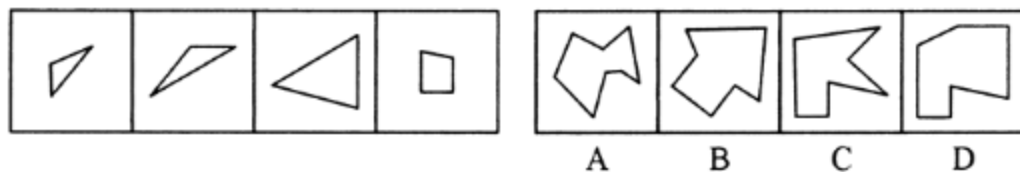


54. 在下边给出一套图形，其中有四个图，从中选出唯一的一项作为保持上边五个图规律性的第六个图。（ ）

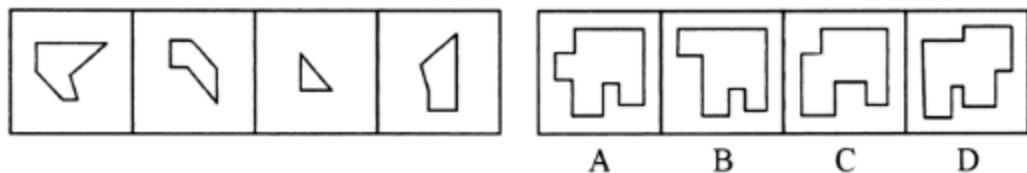


(二) 右边四个图形中，只有一个是左边四个图形拼合（只能通过上、下、左、右平移）而成的，请把它找出来。

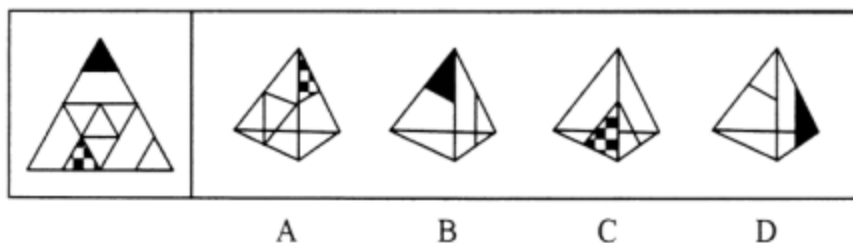
55. 右边四个图形中，只有一个是左边四个图形拼合（只能通过上、下、左、右平移）而成的，请把它找出来。（ ）



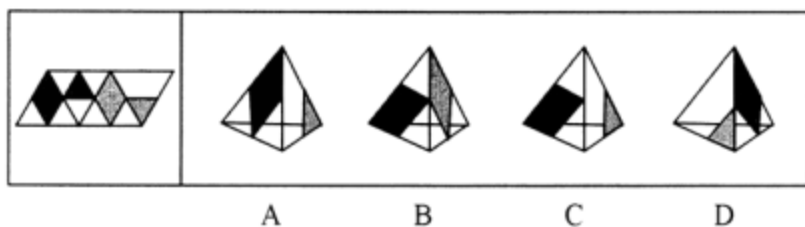
56. 右边四个图形中，只有一个是左边四个图形拼合（只能通过上、下、左、右平移）而成的，请把它找出来。（ ）



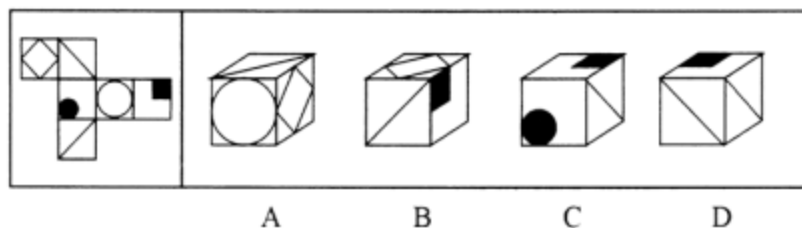
57. 左边给定的是纸盒外表面的展开图，右边哪一项能由它折叠而成？请把它找出来。（ ）



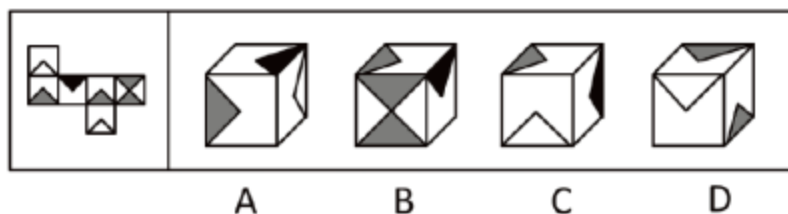
58. 左边给定的是纸盒外表面的展开图，右边哪一项能由它折叠而成？请把它找出来。（ ）



59. 左边给定的是纸盒外表面的展开图，右边哪一项能由它折叠而成？请把它找出来。（ ）



60. 左边给定的是纸盒外表面的展开图，右边哪一项能由它折叠而成？请把它找出来。（ ）



三、逻辑判断。每道题给出一段陈述，这段陈述假设是正确的、不容置疑的。请你根据这段陈述，选择一个答案。注意：正确的答案不需要任何附加说明即可以根据陈述必然推出。

61. 只有加大惩罚力度，对贪污官员绝不姑息手软，才能让官员“不敢腐”；只有在权力运作的每个环节建立和完善相关制度，才能让官员“不能腐”。但是，如果官员缺乏必要的廉耻之心，单纯依靠制度，那么，他们一定会找到制度的漏洞；相反，如果官员有一定的廉耻之心，那么，即便存在一些制度漏洞，他们也不会有意利用，而是会克制自己，甚至会修补这些漏洞，真正做到“不想腐”。

根据以上陈述，可以推出的是（ ）。

- A. 如果官员有一定的廉耻之心，一般不会发现制度的漏洞；即使发现了，也不会利用，只会修补它们
- B. 如果官员有一定的廉耻之心，就会加强自我约束，不会有意利用制度的漏洞，从心里消除腐败念头
- C. 如果官员缺乏必要的廉耻之心，只要加大查处、惩罚力度，绝不姑息手软，他们就“不敢腐”
- D. 如果官员缺乏必要的廉耻之心，只要建立和完善权力运作各个环节的相关制度，他们就“不能腐”

62. 中国人大多是在批评与训斥中长大的，父母、老师、长辈、领导……看你哪一点不顺眼，都能给出指教。话多半不好听，可听者听了多半心悦诚服，心生感激，因为大家想的是良药苦口、忠言逆耳的道理。但是，逆耳的未必都是忠言。有种电话诈骗就是以很凶的方式出现的。电话里的他们就是要批评你、威胁你、吓唬你，一旦你心里打怵了，你就听他们的了；而你听了他们的，你也就上当了。

根据以上陈述，可以推出的是（ ）。

- A. 有的逆耳之言可能不是忠言
- B. 有的忠言并不逆耳
- C. 有的电话诈骗的声音并不是很凶
- D. 如果你听到逆耳的电话心里不打怵，你就不会上当

63. 某单位寻求对外合作，准备在甲、乙、丙、丁四家单位中确定一个或几个合作对象。单位管理层经过认真调研和讨论，最终形成了以下三种意见：

- (1) 对于甲和乙两单位，至多选一个。
- (2) 对于甲和丁两单位，至少选一个。
- (3) 如果选择丙或丁单位，就不能选择乙单位。

在最终决定时，单位领导只采纳了上述一种意见。根据以上陈述，以下哪项最符合单位领导的最终决定（ ）。

- A. 选择乙、丙、丁
- B. 选择乙，但不选择丙和丁
- C. 选择甲、乙、丁
- D. 选择丙，但不选择乙和丁

64. 甲：为富皆不仁，为官皆不义。 乙：你说的两句都不对。

以下哪项与乙的说法最为相近或相似？（ ）

- A. 为富皆仁，为官皆义
- B. 有的为富仁，有的为官义
- C. 有的为富不仁，有的为官不义
- D. 仁者不为富，义者不为官

65. 五对夫妻结伴自驾游。从出发点到目的地，正好有三个服务区，将他们的行程分为四段路，他们在每个服务区都休息了一会儿，有的夫妻也刚好可以换人驾车走下一段路。车队行进过程中，每对夫妻均在自家车中，一人驾车，一人休息。小孙因头晚喝了不少酒，所以今天一直未敢碰方向盘，只是与驾车的妻子说着闲话。已知：

- 第一段路驾车的是：张、王、李、赵、周； 第二段路驾车的是：吴、王、张、赵、郑；
- 第三段路驾车的是：李、钱、张、刘、吴； 第四段路驾车的是：郑、张、王、钱、周。

根据以上信息，可以推出这五对夫妻分别是（ ）。

- A. 李吴、周郑、赵钱、孙张、刘王 B. 刘赵、钱王、孙李、郑张、周吴
C. 孙张、李郑、吴周、刘王、赵钱 D. 孙张、周郑、李吴、刘赵、王钱

66. 顾客：老板，你这盘鱼香肉丝里怎么没有鱼啊？ 老板：这有什么奇怪的！难道老婆饼里有老婆吗？

以下哪项的对话方式与上述最为相似或相同？（ ）

A. 老师：小明，你为什么没有做我昨天布置的家庭作业啊？

小明：对不起，老师！难道我没有回家也要做家庭作业吗？

B. 妻：亲，你的钱包里怎么没有钱啊？

夫：这没什么不正常！难道茶叶罐里总是有茶叶吗？

C. 孩子：妈妈，棉花糖里怎么没有棉花啊？

妈妈：这很正常！难道你用的英雄墨水里藏了一个英雄吗？

D. 顾客：小妹，你卖的珍珠奶茶里怎么没有珍珠？

售货员：这有什么稀奇！夫妻肺片里也没有夫妻啊！

67. 近年来，在全国除港澳台以外的 31 个省区市书法家协会中，许多名誉主席、主席、副主席由官员或退休官员担任。几乎在每个省市书法家协会领导名单中，都能看到同等级政府官员的名字。有专家指出，党政官员热衷于担任各级艺术类人民团体领导，官员与艺术家在身份和职务上相互交叠，会让艺术成为腐败的掮客，使各种肮脏的行贿受贿行为在艺术的光环笼罩下大行其事。

以下哪项不能支持上述专家的论断？（ ）

A. 某下属向其领导请求墨宝，再付之以一笔可观的“润笔费”

B. 某些官员高价出售自己的作品，并坦然视之为“公平交易”

C. 某些官员书法功底颇为深厚，对别人请求题字一般并不推托

D. 在多项艺术活动中，具有行政职务的官员总能获得特别的优待

68. 在以下 5×5 矩形阵中，每个小方格可填入一个汉字，要求每行、每列及每个由粗线条围成的小区域内均含有松、菊、梅、兰、竹 5 个汉字，不能重复也不能遗漏。

根据已经给定的条件，可以推出矩阵中①②③④⑤方格中依次填入的汉字是（ ）。

	兰		①	
菊		竹	②	
			③	
	梅		④	
			⑤	松

A. 松兰梅竹菊

B. 菊梅松竹兰

C. 松兰菊竹梅

D. 梅菊竹兰松

69~70 题基于以下题干：

王刚、赵虎与李亮是某机关新进员工。他们三人中，有两人单身，两人爱好打乒乓球，两人是北方人，两人是公共管理专业硕士。如果王刚与李亮是公共管理专业硕士，则他们都是北方人；如果赵虎与李亮爱好打乒乓球，则他们都单身。已知他们每人最多只拥有 3 个上述特征。

69. 加上“如果王刚是北方人，则他单身”这一条件，可以得出以下哪项结论？（ ）

A. 王刚单身

B. 赵虎是公共管理专业硕士

C. 李亮爱好打乒乓球

D. 王刚是北方人

70. 加上“如果赵虎单身，则王刚也单身”这一条件，得不出以下哪项结论？（ ）

A. 王刚单身

B. 王刚爱好打乒乓球

C. 赵虎是公共管理专业硕士

D. 李亮是北方人

四、定义判断。先给你一个概念的定义，然后给出一组典型例证，要求你从中选出最符合题意的一项。

注意假设这个定义是正确的、不容置疑的。

71. 认知地图效应：指通过对特定事物多次探索之后，头脑中形成一张包含各种相关信息的地图，根据这张地图采取行动，往往能够取得事半功倍的效果。

下列不属于认知地图效应的是（ ）。

A. 庖丁解牛

B. 胸有成竹

C. 老马识途

D. 管中窥豹

72. 精神赡养：是指在家庭生活中，子女理解、尊重、关心、体贴父母，尽力满足其精神生活方面的需要。

下列不属于精神赡养的是（ ）。

A. 老孙最近专门买了 1 台液晶电视安装在父母房间，让二老看自己喜欢的节目，还为他们买了许多京剧光盘

B. 尽管老吴没和父母住在一起，但他多年来已经养成了每天都去看望的习惯，无微不至地照顾好他们的生活，老人们感到很欣慰

老人们感到很欣慰

C. 春节临近，“夕阳红”敬老院的李院长请来朝阳小学的“小红花”乐团，孩子们的欢声笑语和精彩节目，为老人们带来了无尽的快乐

D. 老姜的母亲已 70 多岁，但仍不服老，报名参加了交谊舞培训班，为避免老人生气并确保其安全，每次母亲去上课时，老姜都悄悄跟在后面

73. 密码焦虑症：指现代人在日常生活中被银行卡、手机、登录网站、进入小区等密码包围、困扰而引起的心理焦虑症状。

下列属于密码焦虑症的是（ ）。

- A. 张先生酷爱上网，平日购物、看电影、看书及与朋友通信聊天都通过网络来实现，好多密码都设成了自己的生日，因而也就没有感到特别的不方便
- B. 王厂长为保障工厂安全，给厂门加装了密码锁，要求员工输密码进厂，但又担心员工将密码泄露给外人，为此他经常提醒保安，要认识本厂所有员工，不要让外人进来
- C. 金女士从来不用网银，总担心网银虽然有密码保障，但还是不安全，说不定哪天被黑客盗取了密码，自己的银行存款就可能不翼而飞了，惹来一身的麻烦
- D. 从乡下来到儿子家养老的李大爷，几年来最烦心的事就是不敢外出，因为小区大门、所住的大楼单元门及自家大门都有不同的密码，生怕自己记不清，一出门就回不了家

74. 幻想性错觉：指人们即使对于一个客观中立、并无任何暗示性意义的事物，也往往试图从中寻找出某种特殊意义的心理现象。

下列不属于幻想性错觉的是（ ）。

- A. 夜晚，有时候有人会把高空的灯看成星星
- B. 人们常常会在云朵中发现一个个动物形象
- C. 古人认为月亮上有桂树、兔子、嫦娥、吴刚
- D. 天柱山周围的三座山峰绵延相连很像卧佛

75. 标杆效应：指在某一区域内，由于消费者对某种品牌认知度较高，导致其价格往往比同一区域其他同类商品高出一大截，并影响到整个区域同类商品的价格走势。

下列属于标杆效应的是（ ）。

- A. 在某市，某大品牌电器企业每到节假日就大搞特价促销活动，其他商家纷纷效仿，也出奇招来招揽顾客
- B. 某知名品牌推出的新款智能手表受到热捧，虽然价格偏高，却一再脱销，其他品牌的智能手表纷纷调低价格，争抢市场份额
- C. 市一中即将搬往高新区的消息一经传开，高新区的房价就一路飙升，连紧邻的湾树区房价也跟着涨了三四成
- D. 老徐的网店短短半年内就盈利数万，朋友们纷纷前来取经，采用同样的经营方式创办了自己的网店，一个个赚得盆满钵满

76. 帐篷理论：指在一定范围内，帐篷的容量不仅仅取决于篷布的面积，也取决于支撑篷布的竹竿的高度。竹竿越高，帐篷容量就越大，比喻利用核心竞争力带动其他各方面要素，最终取得竞争优势。

下列不符合帐篷理论的是（ ）。

- A. 在某市直机关举办的足球赛上，实力均衡的机关二队出人意料地击败了拥有两名前省队球员的机关一队，

夺得冠军

B. 某公司凭借其在发动机和传动系统上的技术优势，由原先的摩托车陆续进入汽车、割草机、水下引擎和发电机等市场，均取得巨大成功

C. 小李的高考成绩虽然一般，社会实践经历也不出众，却凭借全国高中物理奥林匹克竞赛一等奖的优异成绩进入了重点大学

D. 某款手机整体设计并不前卫，配置相当大众化，定价也相对偏高，本来不被业内专家看好，上市以后，却凭借超大屏幕受到广大用户青睐，销量连续数周排行第一

77. 协同治理：指政府部门为了达成公共利益的目标，通过与非政府的、非盈利的社会组织和普通公众合作开展社会管理活动的工作模式。

下列属于协同管理的是（ ）。

A. 某市辖区内有多个街道办，每个街道办管辖一片区域，有的街道服务中心专门设立了为老年人和残疾人提供公益服务的绿色通道

B. 某高校学生会多次组织大学生深入社区，开展心理咨询，消防安全讲座，帮助孤寡老人等公益活动

C. 为创建卫生城市，某市卫生局、环保局、城管局通力合作，卫生防疫人员、环境监测人员、环卫工人和城管人员各司其职，积极工作

D. 某市为确保城市公交畅通安全，每个公交站台都配有治安巡查员，这些人员中既有各职能部门人员，也有志愿者协会成员，还有退休者

78. O2O 的营销方式：即 Online To Offline，指以互联网为前台，用线上营销带动线下消费的商业营销模式。通常包括商家网上提供商品信息、折扣信息、服务预订、消费者在线预付、线下消费等环节完成商品交易。

下列不属于 O2O 营销方式的是（ ）。

A. 某公司推出线上、线下同价促销活动，旗下的网上商城和实体店所有商品价格相同，一时间网上商城订单量剧增，到实体店提货的人也摩肩接踵

B. 小兰在时装杂志上看到了一款心仪的长裙，通过某比价网站发现单位附近一家商场的同款长裙正在打折促销，于是趁中午休息时间买了回来

C. 女朋友生日临近，小袁从网上团购了某酒店的自助餐消费券，邀请多名好友为女朋友开了一个难忘的生日派对

D. 某家电厂商利用微信平台向订阅用户定期推送新品上市、促销信息，用户用手机扫描推送消息中商品下方的二维码即可完成支付，等待附近门店的配送

79. 趋同进化：指不同生物物种在进化过程中由于适应相似的环境而呈现出外形上的相似性。

下列属于趋同进化的是（ ）。

- A. 海豚和鲨鱼，一个是哺乳动物，一个是鱼类，只是为了更好地在海洋中生存，它们就变得越来越相像了
- B. 随着共同生活时间的增加，夫妻二人的价值观念、生活习惯，甚至连五官都变得越来越相近了
- C. 无脊椎动物中，肠腔动物门的珊瑚、甲壳类的藤壶、棘皮动物门的海百合，都有相似的辐射对称躯体构型
- D. 蚂蚁从金合欢的刺中取食蛋白质、脂肪和蜜，也在金合欢枝叶间巡逻缠绕金合欢的其他植物，进攻来此觅食的食草动物

80. 星期一综合症：是指由于在双休日过分消耗精力处理工作之外的事情，导致周一上班时出现头晕、胸闷、腹胀、食欲不振、周身酸痛、注意力不集中等症状。

下列属于星期一综合症的是（ ）。

- A. 五一小长假，小李和同事们计划已久的黄山之旅终于成行了。3天下来，爬山、聚餐、照相、乘车，一点也不比上班轻松。这不，长假结束刚一上班，个个都像霜打的茄子——蔫了吧唧的
- B. 终于又到周末了，小王将下载好的一部40集连续剧不分白天黑夜地看完了，两天里除了上厕所，就没下过床，饭都是室友帮忙从食堂带的。周一起床整个人都昏昏沉沉的，干脆向辅导员请假不去上课了
- C. 周六上午陪小孩参加绘画兴趣班，下午学钢琴，晚上带着去品尝风味小吃；周日上午带着小孩去游乐场，下午去奶奶家。整个周末，王女士的时间表都被小孩填满了，周一上班脑袋里还是这些，根本没法工作
- D. 已经连续工作了5天，也计划好周末陪女友上街购物，但公司临时通知周末加班，小许只好向女友“请假”，回到办公室和同事们通宵达旦地又干了两天。星期一上班，个个都成了“熊猫眼”

第四部分 资料分析（共20题，参考时限20分钟）

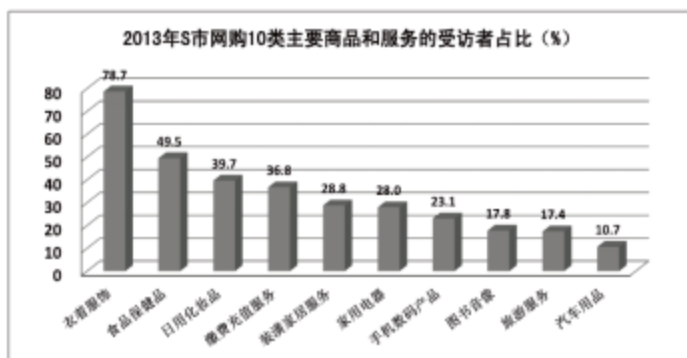
下列给出的文字、表格、图形资料均有5个问题要你回答，你应根据资料提供的信息进行分析、计算、处理，然后从备选答案中选择一个最恰当的答案。

一、根据以下资料，回答81~85题。

S市统计局在该市范围内，抽取3000名18~70周岁且在2013年有过网购经历的居民，以入户方式进行问卷调查。

调查数据显示，受访者2013年人均网购次数为19.4次。从分组情况看，有三类人群使用网购相对频繁：一是年轻群体。35岁以下的受访者人均网购次数为25.5次；二是较高学历的群体，文化程度为大学本科及以上学历和大专学历的受访者人均网购次数分别是27.3次和21.8次；三是中高收入群体，个人月收入为10000元以上

和 5000~10000 元的受访者人均网购次数分别是 31.0 次和 26.0 次。此外，女性受访者人均网购次数为 21.1 次，比男性受访者高出 3.8 次。2013 年该市网购 10 类主要商品和服务的受访者占比情况如下图。

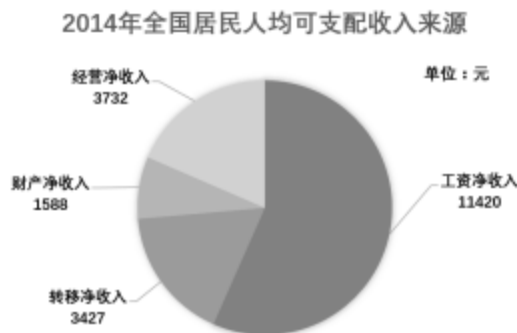


81. 2013 年，在该市有超过 40%的受访者网购的商品和服务项目是（ ）。
- A. 衣着服饰、食品保健品 B. 食品保健品、汽车用品
C. 衣着服饰、缴费充值服务 D. 日用化妆品、装潢家居服务
82. 受访者中女性所占的比例约为（ ）。
- A. 71.2% B. 55.3% C. 65.7% D. 44.7%
83. 下列群体中，2013 年人均网购次数最多的是（ ）。
- A. 35 岁以下的受访者 B. 个人月收入为 10000 元以上的受访者
C. 大专学历的受访者 D. 大学本科及以上学历的受访者
84. 受访者中，在 2013 年网购了缴费充值服务的人数为网购图书音像人数的（ ）。
- A. 1.6 倍 B. 2.1 倍 C. 2.5 倍 D. 3.0 倍
85. 不能从上述资料推出的一项是（ ）。
- A. 受访者中在 2013 年网购了日用化妆品的人数是 1191 人
B. 2013 年该市个人月收入为 5000~10000 元的受访者人均网购次数是 26.0 次
C. 2013 年该市网购家用电器、图书音像的受访者占比之差是 10.2%
D. 2013 年该市大专及以上学历受访者的人均网购次数是 24.6 次

二、根据以下资料，回答 86~90 题。

2014 年全国居民人均可支配收入 20167 元，比上年增长 10.1%，收入来源如下图所示。按常住地分，城镇居民人均可支配收入 28844 元，比上年增长 9.0%；城镇居民按户人均可支配收入的中位数为 26635 元，增长 10.3%。农村居民按户人均可支配收入 10489 元，比上年增长 11.2%；农村居民人均可支配收入的中位数为 9497 元，增长 12.7%。全国居民人均消费支出 14491 元，比上年增长 9.6%。按常住地分，城镇居民人均消费支出 19968 元，

增长 8.0%；农村居民人均消费支出 8383 元，增长 12.0%。



86. 2014 年城镇居民人均消费支出增长比农村居民人均消费支出增长（ ）。

- A. 低 2.2 个百分点 B. 高 4.0 个百分点 C. 高 2.2 个百分点 D. 低 4.0 个百分点

87. 2014 年全国居民人均可支配收入中，经营净收入占比为（ ）。

- A. 27.0% B. 18.5% C. 56.6% D. 7.9%

88. 2013 年城镇居民人均可支配收入比农村居民人均可支配收入多（ ）。

- A. 17030 B. 18355 C. 16138 D. 22090

89. 2013 年全国居民人均可支配收入与人均消费支出分别为（ ）。

- A. 22177 元、17222 元 B. 18317 元、13222 元
C. 16367 元、11491 元 D. 20167 元、14491 元

90. 2014 年全国城镇居民人数占全国居民人数的比重是（ ）。

- A. 36.4% B. 42.1% C. 52.7% D. 69.9%

三、根据以下资料，回答 91~95 题。

2014 年 1~9 月我国入境外国人共有 1922 万人，其中来自亚洲、美洲、欧洲、大洋洲、非洲的外国人分别为 1184 万人、229 万人、408 万人、58 万人和 43 万人。分不同目的的入境外国人数见下表。

2014 年 1—9 月不同目的入境外国人数 单位：万人

来源	会议(商务)	观光休闲	探亲访友	服务员工	其他
亚洲	219	388	12	176	389
美洲	41	84	19	14	71
欧洲	109	147	7	46	99
大洋洲	10	20	6	3	19
非洲	15	12	0	4	12

91. 2014 年 1~9 月来自欧洲的入境外国人数占外国人总数的比重是（ ）。

- A. 11.9% B. 21.2% C. 28.1% D. 30.2%

92. 2014 年 1~9 月不同目的入境外国人中人数最多的是（ ）。

A. 观光休闲 B. 会议（商务） C. 探亲访友 D. 其他

93. 2014年1~9月以会议（商务）为目的的入境外国人数为（ ）。

A. 243万 B. 590万 C. 394万 D. 651万

94. 2014年1~9月来自大洋洲以不同目的入境的人数占其入境总人数的比重超过15%的有（ ）。

A. 会议（商务）、探亲访友、服务员工 B. 观光休闲、探亲访友、其他
C. 会议（商务）、观光休闲、其他 D. 观光休闲、探亲访友、服务员工

95. 下列判断正确的是（ ）。

- A. 2014年1~9月来自亚洲以会议（商务）为目的入境人数不到表中其他各洲以会议（商务）为目的入境总人数的一半
- B. 2014年1~9月来自表中各洲探亲访友的人数占各洲入境总人数的比重均最小
- C. 2014年1~9月来自美洲服务员工的人数不到其会议（商务）人数的三分之一
- D. 2014年1~9月来自表中各洲会议（商务）人数占各洲入境总人数的比重最大的是非洲

四、根据以下资料，回答96~100题。

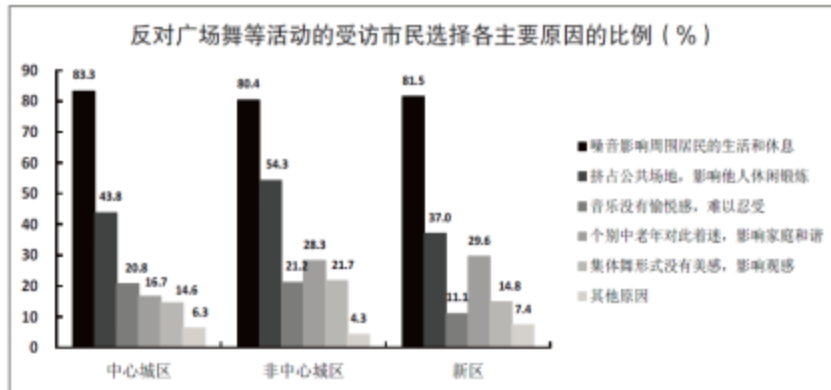
某市统计局在针对噪音扰民的一次调查中，当问及受访市民对哪一类噪音反感时，选择社区广场舞活动噪音的占8.6%，比选择居民社区宠物狗叫声的低2.9个百分点。当被问及是否支持广场舞活动时，12.8%的受访市民表示无所谓或者不知道，12.0%的受访者表示反对，其他为支持者。在支持的市民中，当被问及支持的主要原因（多选）时，不同年龄段受访者的回答如下图所示。

支持广场舞等活动的受访市民选择各主要原因的比例

单位：%

原因	青年	中年	老年
中老年人的正常锻炼娱乐活动	66	54.6	60.8
有利于中老年人扩大社交、排解孤独	64.7	61.7	54.3
有利于中老年人活动筋骨、减缓衰老	62.8	59.7	58.1
噪音等问题可通过规范管理克服	22.5	16.3	18.8
社会和谐需要相互包容理解	32.1	32.7	31.7
其他原因	0.3	2.1	1.6

在反对的市民中，被问及反对的主要原因（多选）时，不同区域受访者回答如下。



96. 此次调查中，对居民社区宠物狗的叫声反感的市民占受访市民的比重为（ ）。
- A. 12.5% B. 11.5% C. 10.5% D. 9.5%
97. 如果此次调查的受访者数量为 1000 名，则支持广场舞等活动的人数为（ ）。
- A. 634 B. 752 C. 798 D. 914
98. 此次调查中，在支持广场舞等活动的受访青年市民中，同时选择“中老年人正常锻炼等娱乐活动”和“有利于中老年人扩大社交、排解孤独”等原因的至少有（ ）。
- A. 64.7% B. 35.3% C. 30.7% D. 28.6%
99. 根据此次调查，市民反对广场舞等活动的的主要原因是（ ）。
- A. 噪音影响周围市民的生活和休息 B. 挤占公共场地，影响他人锻炼
C. 音乐没有愉悦感，难以忍受 D. 集体舞形式没有美感，影响观感
100. 下列判断正确的是（ ）。
- A. 此次调查中的 16.3% 的中年受访者认为广场舞等活动可以通过规范管理克服
B. 此次调查的受访者中，青年所占比例高于中年和老年
C. 和中心城区的老年人相比，非中心城区的中年人对广场舞更着迷
D. 在反对广场舞等活动的非中心城区受访者中，选择“音乐没有愉悦感，难以忍受”的比例高于其他区域